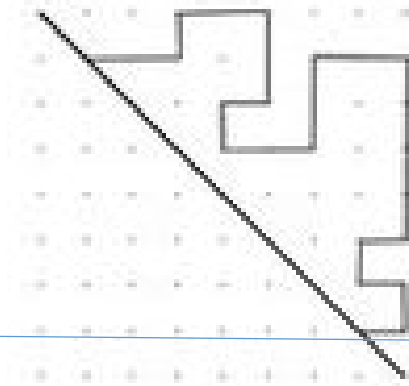
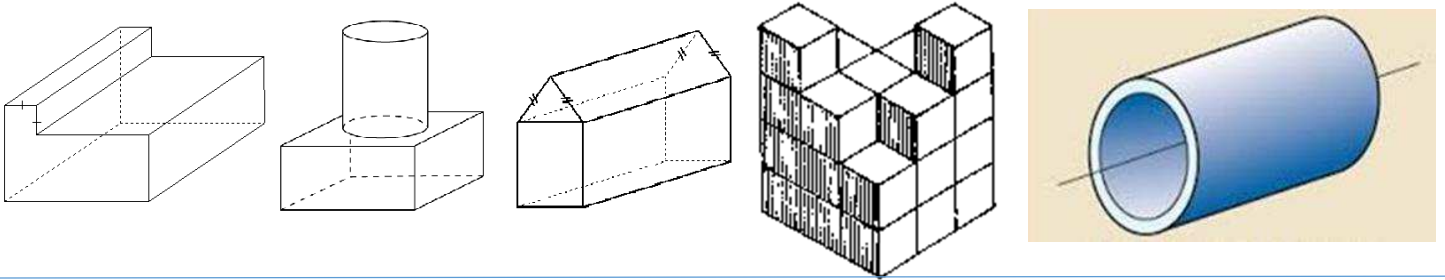


## Quiz – Aire de la surface et Symétrie


-trouve l'**aire de la surface** de objets composés (composés d'une combinaison de cube, prisme rectangulaire, prisme triangulaire, cylindre, plusieurs cubes) ou d'une portion d'un objet composé, et des objets avec un trou percé



-**complète** une forme à travers la **ligne de symétrie** *verticale, horizontale, oblique* – pour que la forme résultante démontre la **symétrie linéaire**

-décide si une forme démontre la **symétrie linéaire** et si oui, trace la(les) **lignes de symétrie**

-décide si une forme démontre la **symétrie de rotation** et si oui, indique l'angle de rotation



angle : 360°



angle : 180°